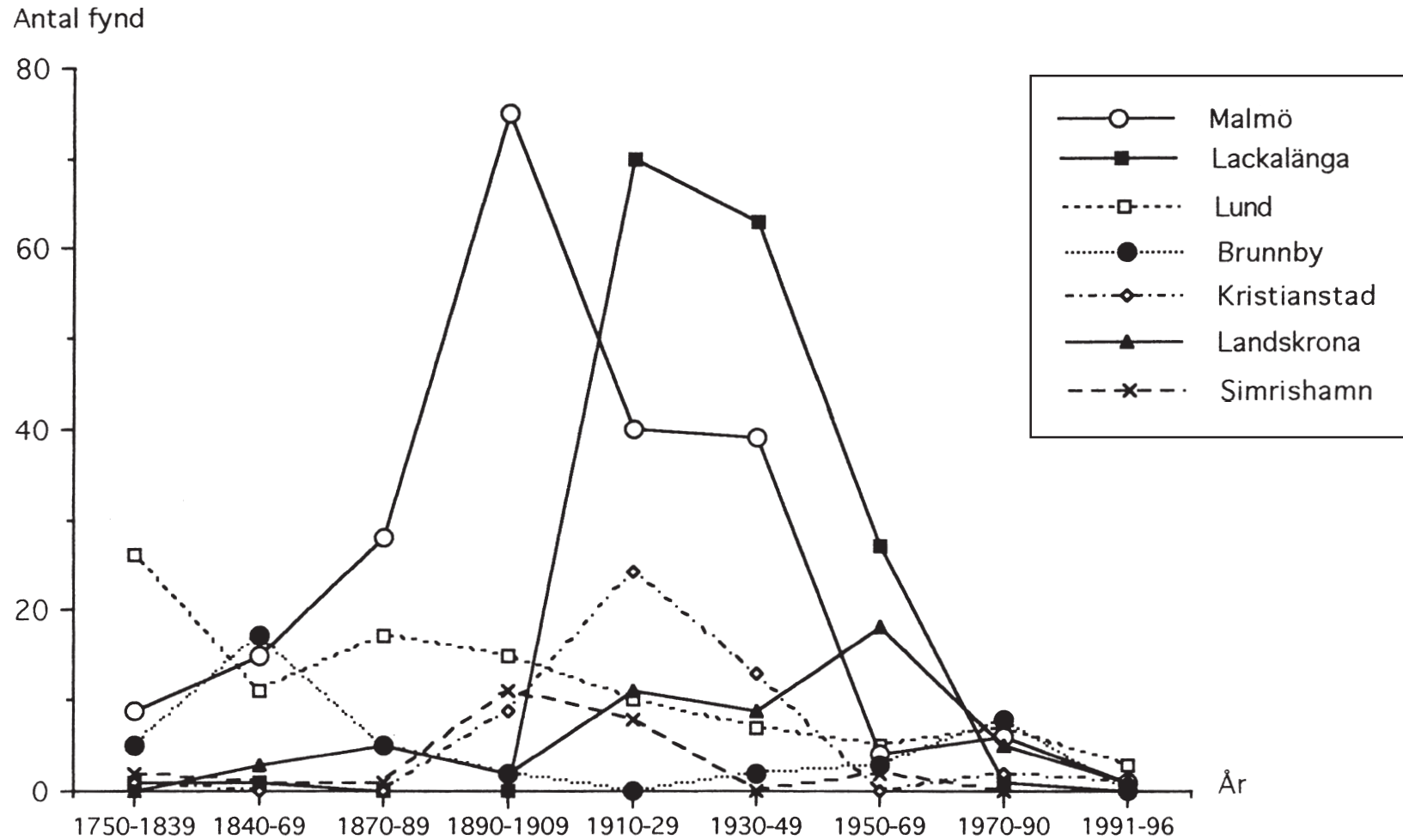


© Högskoleverket

DTK 2006-10-21

VÄXTERS INVANDRING TILL SKÅNE 1750–1996



Antal fynd av nya växtarter på några orter i Skåne under olika tidsperioder åren 1750–1996.

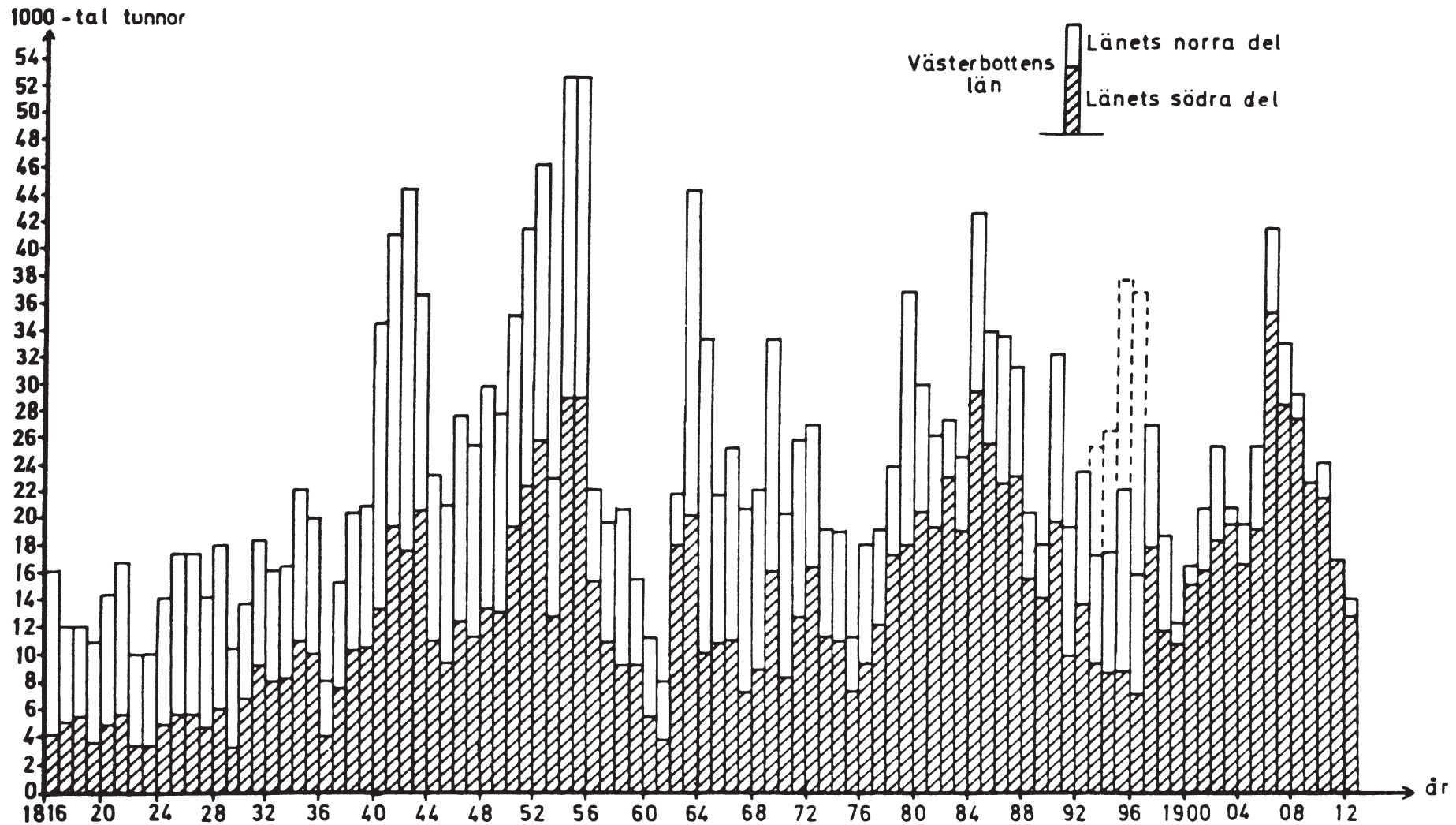
1. **Hur många fynd av nya växtarter gjordes sammanlagt i Landskrona under åren 1750–1996?**

- A 20
- B 30
- C 40
- D 55
- E 65

2. **Vilken av följande tidsperioder var skillnaden mellan Lackalänga och Brunnby störst respektive minst vad gäller antalet fynd av nya växtarter?**

- A 1910–29 respektive 1870–89
- B 1910–29 respektive 1890–1909
- C 1910–29 respektive 1970–90
- D 1930–49 respektive 1750–1839
- E 1930–49 respektive 1970–90

UTSKEPPNING AV TJÄRA FRÅN VÄSTERBOTTEN



Utskeppning av tjära från Västerbottens län åren 1816–1912¹. Tusental tunnor (1 tunna = 125,6 liter).

¹ För åren 1893–96 redovisas även den mängd tjära från Västerbottens län som skeppades ut från Örnsköldsvik i Västernorrlands län (den översta streckade delen av staplarna).

3. **Hur mycket tjära skeppades ut från Västerbottens län år 1900?**

- A 2 000 liter
- B 16 000 liter
- C 125 000 liter
- D 1 600 000 liter
- E 2 000 000 liter

4. **Vilket av följande år skedde den största minskningen, jämfört med närmast föregående år, av antalet tunnor tjära som skeppades ut från Västerbottens län?**

- A 1860
- B 1865
- C 1870
- D 1880
- E 1885

FORTSÄTT PÅ NÄSTA SIDA

FÖRSKOLOR OCH FRITIDSHEM

Antal barn i olika åldrar som var inskrivna i förskolor respektive fritidshem 1975–1999.

År	Antal inskrivna barn i förskolor								Antal inskrivna barn i fritidshem				
	Yngre än 1 år	1 år	2 år	3 år	4 år	5 år	6 år	7 år och äldre	Totalt	6 år ¹	7–9 år	10 år och äldre	Totalt
1975	2 858	6 608	9 532	12 189	12 143	11 985	10 647	..	65 962	..	18 188	2 525	20 713
1976	2 757	7 422	11 003	13 850	15 736	14 713	11 548	622	77 651	..	20 900	2 600	23 500
1977	1 974	6 985	11 076	14 304	16 219	17 219	13 320	628	81 725	..	22 901	3 171	26 072
1978	2 821	8 972	13 388	18 270	19 997	20 523	16 652	770	101 393	..	27 893	3 801	31 694
1979	1 913	10 104	15 369	19 972	23 066	25 229	20 963	4 183	120 799	..	34 367	4 173	38 540
1980	1 607	12 219	17 458	22 050	25 222	27 070	23 475	6 145	135 246	..	37 704	4 985	42 689
1981	1 633	14 819	20 622	24 076	26 629	27 848	24 168	8 419	148 214	..	40 911	5 610	46 521
1982	1 258	15 713	23 520	27 201	28 433	29 422	25 576	10 893	162 016	..	43 327	6 441	49 768
1983	1 502	17 039	24 476	29 656	31 176	30 329	27 172	11 197	172 547	..	46 000	7 479	53 479
1984	1 546	19 103	26 454	30 555	34 000	33 449	28 139	11 503	184 749	..	48 586	8 477	57 063
1985	1 428	20 044	28 124	32 071	34 882	36 617	31 226	11 340	195 732	..	52 882	9 581	62 463
1986	1 044	21 110	29 599	33 010	36 021	37 262	33 878	11 875	203 799	..	57 727	10 468	68 195
1987	921	22 592	32 908	35 841	37 849	39 056	35 061	12 172	216 400	..	64 951	11 121	76 072
1988	1 017	22 547	35 025	39 248	40 982	41 192	37 361	12 094	229 466	..	73 836	12 493	86 329
1989	500	23 046	36 777	42 726	45 221	44 613	40 175	11 938	244 996	..	82 861	14 907	97 768
1990	613	25 434	42 215	45 918	49 078	49 385	43 706	11 122	267 471	..	91 658	16 935	108 593
1991	395	29 081	47 607	51 617	53 165	53 489	48 013	11 713	295 080	..	100 157	16 360	116 517
1992	548	30 228	53 041	55 859	58 976	57 335	50 882	8 681	315 550	..	110 667	16 479	127 146
1993	163	29 660	53 155	60 719	63 226	62 599	43 685	8 940	322 147	..	122 318	10 428	132 746
1994	155	29 024	55 570	64 162	71 895	70 491	40 506	5 819	337 622	25 175	140 281	12 974	178 430
1995	363	33 778	58 800	67 931	76 043	79 738	39 463	4 550	360 666	34 291	159 559	16 135	209 985
1996	143	35 055	60 267	68 660	77 550	82 015	38 479	3 659	365 828	45 462	176 622	17 355	239 439
1997	139	34 505	58 794	68 830	77 682	84 187	34 805	3 978	362 920	52 258	192 293	19 403	263 954
1998	39	30 521	57 547	66 635	77 770	85 272	17 645	2 506	337 935	66 599	212 393	22 041	301 033
1999	38	32 062	58 153	65 063	75 379	83 706	3 869	390	318 660	81 336	227 796	23 036	332 168

¹ Till och med år 1993 ingick 6-åringar i åldersgruppen 7–9 år.

5. Studera det sammanlagda antalet 1- och 2-åringar inskrivna i förskolor 1975. **Hur många år tog det innan detta antal för första gången blev mer än tre gånger så stort?**

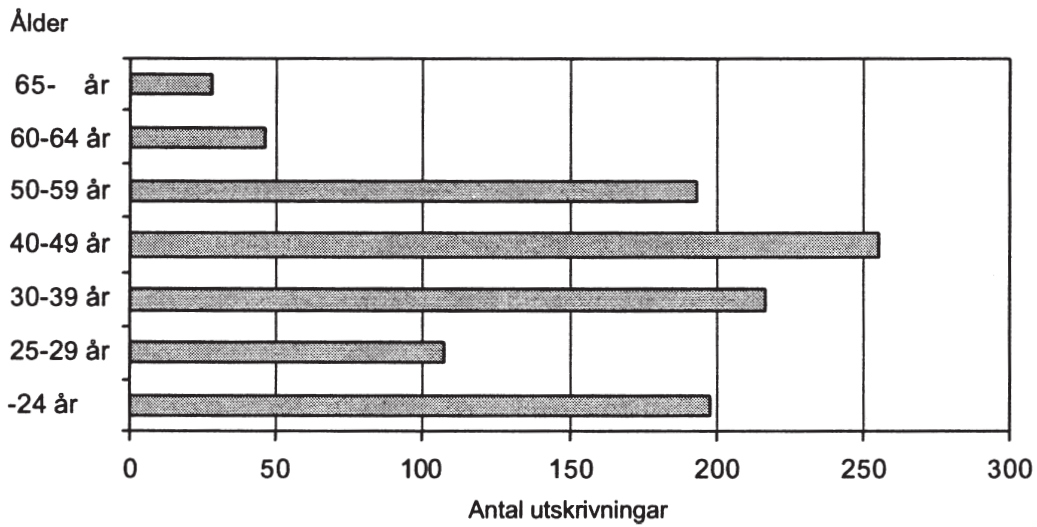
- A 6
- B 8
- C 9
- D 11
- E 12

6. Jämför det sammanlagda antalet barn inskrivna i förskolor och fritidshem det år då antalet var som störst med antalet det år då det var som minst. **Hur stor var skillnaden i antal barn mellan dessa två år?**

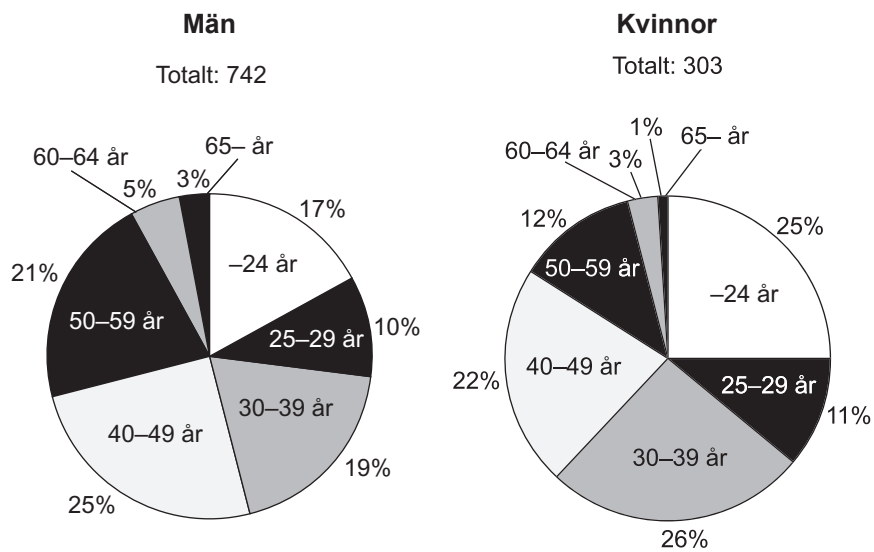
- A 299 866
- B 311 455
- C 415 023
- D 518 592
- E 564 153

FORTSÄTT PÅ NÄSTA SIDA

UTSKRIVNINGAR FRÅN VÅRD ENLIGT LVM



Antalet utskrivningar under 2002 av personer som vårdats enligt LVM¹, fördelat efter ålder.



Antalet utskrivningar under 2002 av män respektive kvinnor som vårdats enligt LVM¹, procentuellt fördelat efter ålder.

¹ Lagen om vård av missbrukare i vissa fall.

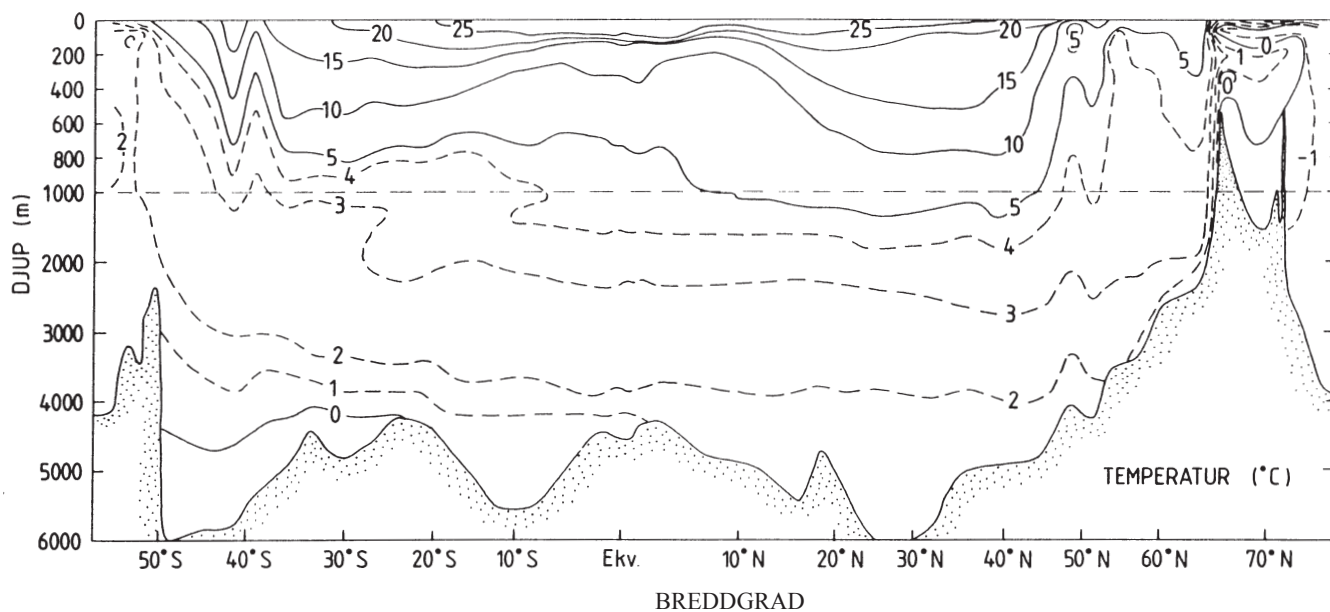
7. **Hur många utskrivningar gällde män i åldern 40–49 år?**

- A 25
- B 65
- C 185
- D 250
- E 740

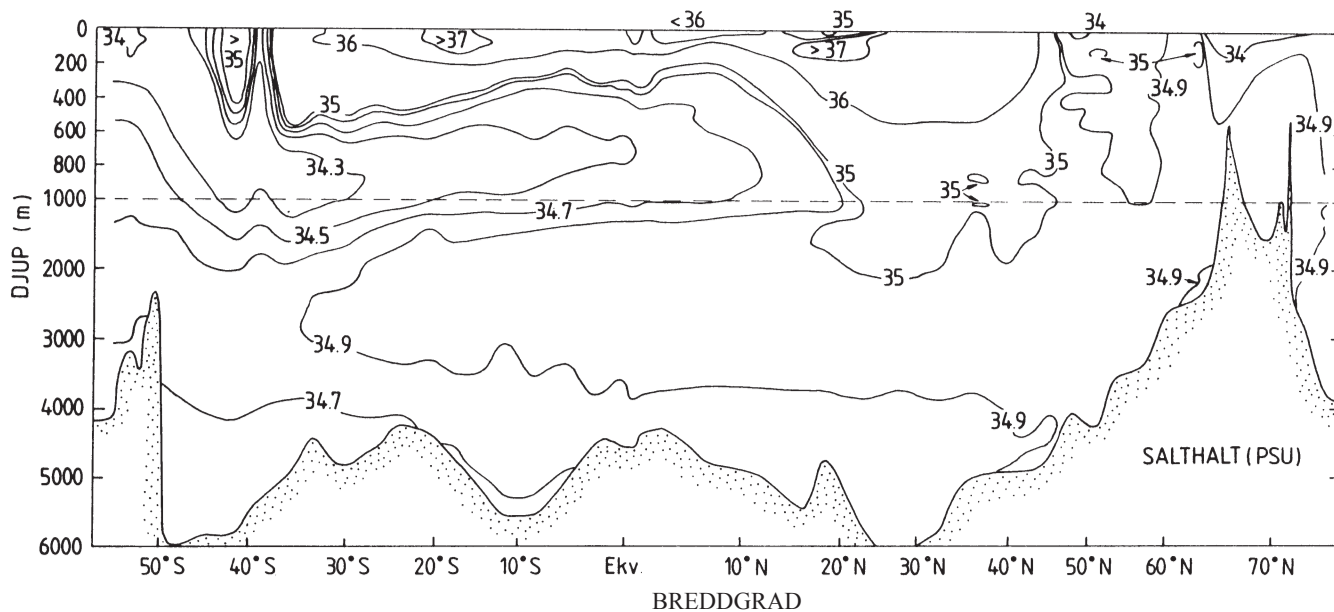
8. **Hur stor andel av samtliga utskrivningar gällde personer som var 50 år eller äldre?**

- A 15 procent
- B 20 procent
- C 25 procent
- D 30 procent
- E 45 procent

TEMPERATUR OCH SALTHALT I ATLANTEN



Vattentemperatur på olika djup längs ett syd–nordligt vertikalsnitt genom Atlanten. Temperatur i grader Celsius (°C).



Salthalt på olika djup längs ett syd–nordligt vertikalsnitt genom Atlanten. Salthalt i gram per kilogram havsvatten (PSU).

9. **Vilket är det största angivna djup där salthalten är minst 34,9 PSU?**

- A 3 900 meter
- B 4 500 meter
- C 4 900 meter
- D 5 500 meter
- E 6 000 meter

10. **Hur stor är nivåskillnaden mellan 3-gradigt och 4-gradigt vatten vid den breddgrad där denna skillnad är som störst?**

- A 900 meter
- B 1 500 meter
- C 1 800 meter
- D 2 100 meter
- E 2 500 meter

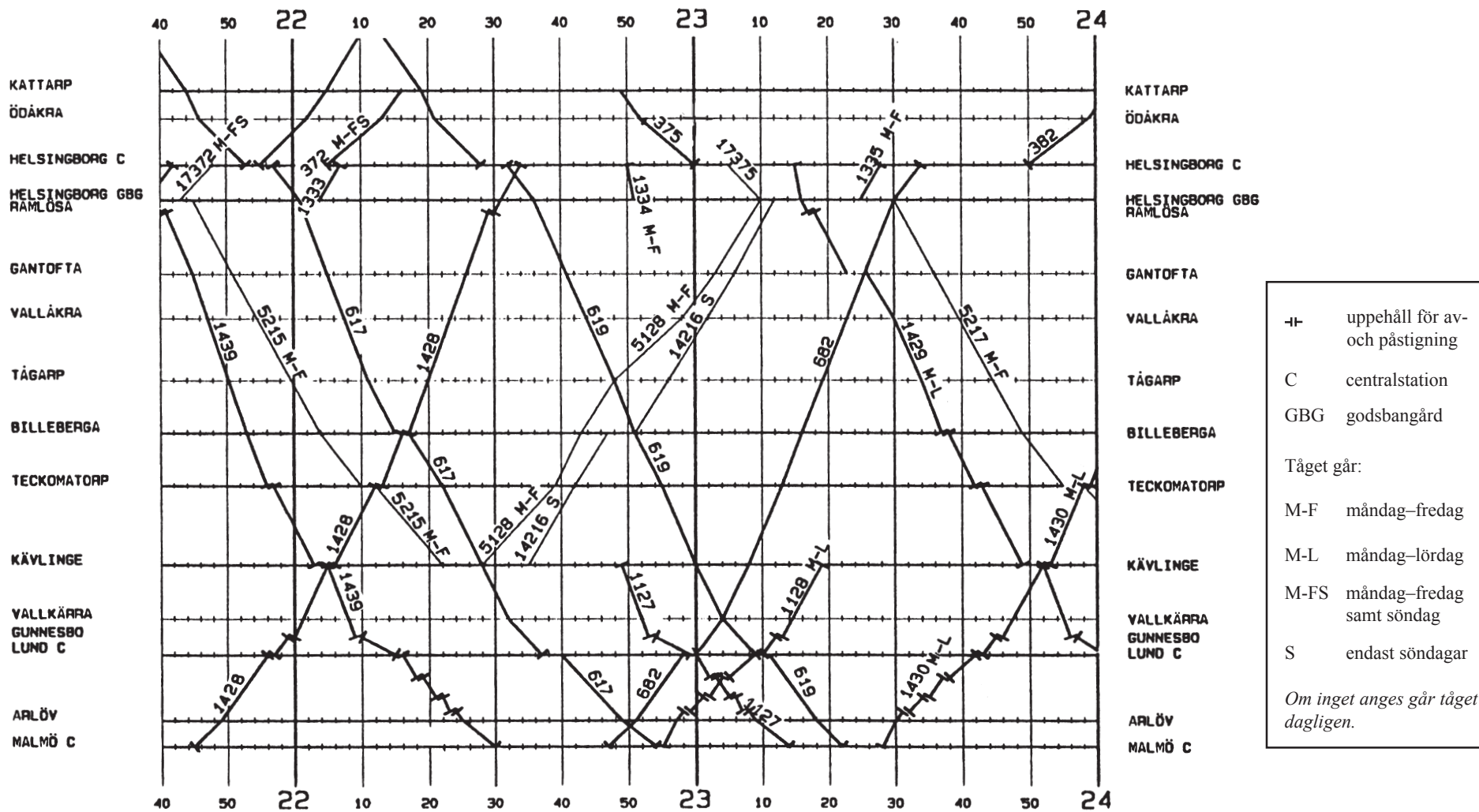
SVERIGES IMPORT OCH EXPORT AV LIVSMEDEL 1990–1998

Värdet av Sveriges import och export av livsmedel och livsmedelsråvaror 1990–1998. Miljoner kronor.

	1990	1991	1992	1993	1994	1995	1996	1997	1998
Import									
Kött och köttvaror	989	1 162	1 402	1 184	1 452	2 214	2 407	2 652	2 962
Mjölk, mejeriprodukter samt ägg	600	710	743	932	1 008	1 155	1 247	1 399	1 739
Fisk, kräft- och blötdjur, varor därav	2 468	2 506	2 568	2 812	3 382	3 985	4 110	4 620	5 192
Spannmål och varor därav	1 075	1 143	1 226	1 547	1 833	1 766	1 970	2 120	2 480
Frukt och köksväxter	6 108	6 786	6 505	7 259	8 236	7 939	8 349	8 904	9 792
Sockler, sockervaror och honung	716	609	630	848	1 072	1 052	1 072	1 156	1 261
Kaffe, te, kakao, kryddor och varor därav	2 277	2 286	2 047	2 864	4 213	4 269	3 691	4 924	4 565
Diverse livsmedel	975	1 088	1 288	1 680	1 767	1 908	1 969	2 061	2 357
Drycker	1 785	1 846	2 060	2 739	3 782	2 298	3 265	3 514	3 877
Totalt livsmedel	16 993	18 138	18 467	21 863	26 745	26 586	28 080	31 350	34 225
All varuimport	323 875	301 291	290 929	334 283	399 152	460 578	448 739	501 098	542 160
Varav									
– Levande djur	214	195	106	97	114	86	86	91	121
– Animaliska och vegeta- biliska oljor och fetter	610	654	625	750	1 011	1 276	925	1 488	1 553
Export									
Kött och köttvaror	541	316	244	406	483	838	1 218	1 436	1 101
Mjölk, mejeriprodukter samt ägg	708	414	319	503	662	1 488	1 111	1 645	1 705
Fisk, kräft- och blötdjur, varor därav	877	848	700	687	926	2 064	2 032	2 660	3 165
Spannmål och varor därav	1 603	1 617	1 462	1 046	1 496	1 817	2 595	3 374	3 161
Frukt och köksväxter	436	479	503	680	581	671	882	929	1 055
Sockler, sockervaror och honung	416	390	333	361	381	517	513	840	609
Kaffe, te, kakao, kryddor och varor därav	814	997	1 009	1 133	1 484	1 739	1 673	1 675	1 655
Diverse livsmedel	537	539	631	938	1 400	1 741	1 736	2 309	2 136
Drycker	356	362	431	794	1 673	1 385	1 602	1 895	2 136
Totalt livsmedel	6 287	5 962	5 631	6 547	9 087	12 260	13 362	16 763	16 723
All varuexport	339 852	332 779	326 031	388 291	471 603	567 836	569 167	632 709	673 091
Varav									
– Levande djur	48	47	50	100	74	81	75	98	96
– Animaliska och vegeta- biliska oljor och fetter	485	670	884	770	563	789	680	1 038	1 061

11. **För vilken varugrupp var den procentuella ökningen av exportvärdet störst om man jämför 1998 med 1990?**
- A Mjök, mejeriprodukter samt ägg
 - B Fisk, kräft- och blötdjur, varor därav
 - C Fukt och köksväxter
 - D Kaffe, te, kakao, kryddor och varor därav
 - E Drycker
12. **Hur stor var skillnaden mellan importvärdet och exportvärdet av kött och köttvaror 1995 respektive 1996?**
- A 190 respektive 380 miljoner kr
 - B 380 respektive 760 miljoner kr
 - C 760 respektive 1 190 miljoner kr
 - D 1 190 respektive 1 380 miljoner kr
 - E 1 380 respektive 1 190 miljoner kr

GRAFISK TÅGTIDTABELL



Grafisk tidtabell över tågtrafiken på sträckan Kattarp–Malmö C klockan 21.40–24.00. I tidtabellen anges tågens nummer, vilka dagar tågen går samt vilken tid tågen passerar olika järnvägsstationer.

13. **Vilket svarsförslag anger de två tåg som har kortast gångtid från Teckomatorp till Helsingborg godsbangård?**

- A 682 och 1428
- B 682 och 14216
- C 1428 och 5128
- D 1428 och 14216
- E 5128 och 14216

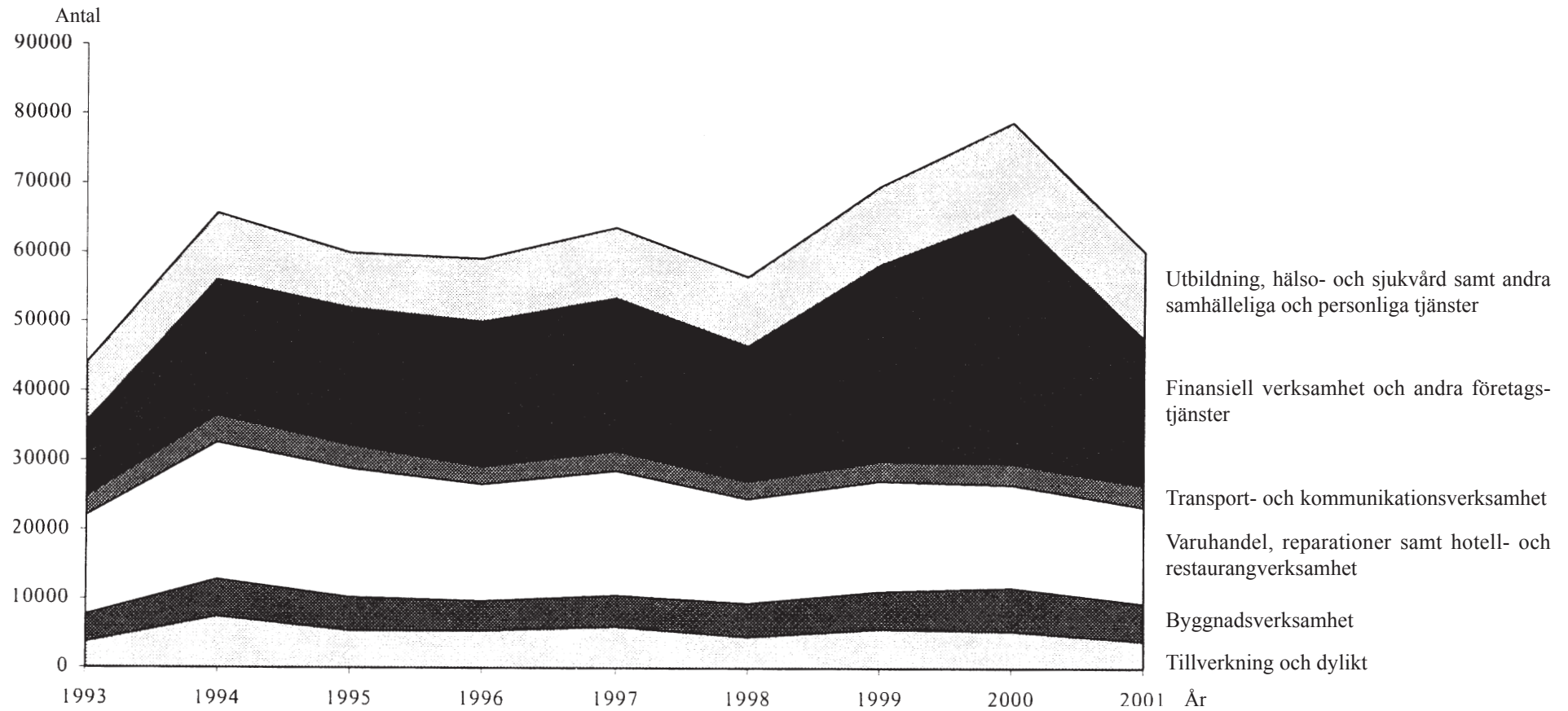
14. Studera den tid det tar för nedanstående tåg att ta sig från Tågarp till Kävlinge. **Hur mycket skiljer det mellan det tåg som tar kortast tid jämfört med det som tar längst tid?**

Tåg 617
Tåg 1429
Tåg 1439
Tåg 5215

- A 2 minuter
- B 5 minuter
- C 9 minuter
- D 13 minuter
- E 15 minuter

FORTSÄTT PÅ NÄSTA SIDA

SYSSELSATTA I NYSTARTADE FÖRETAG



Antalet sysselsatta i nystartade företag åren 1993–2001 fördelat efter verksamhetsområde.

15. **Hur stort var det genomsnittliga antalet sysselsatta per år i nystartade företag under den redovisade perioden?**

- A 50 000
- B 56 000
- C 62 000
- D 68 000
- E 74 000

16. **Hur många var sysselsatta i nystartade företag inom "Varuhandel, reparationer samt hotell- och restaurangverksamhet" det år då det totala antalet sysselsatta i nystartade företag var som störst?**

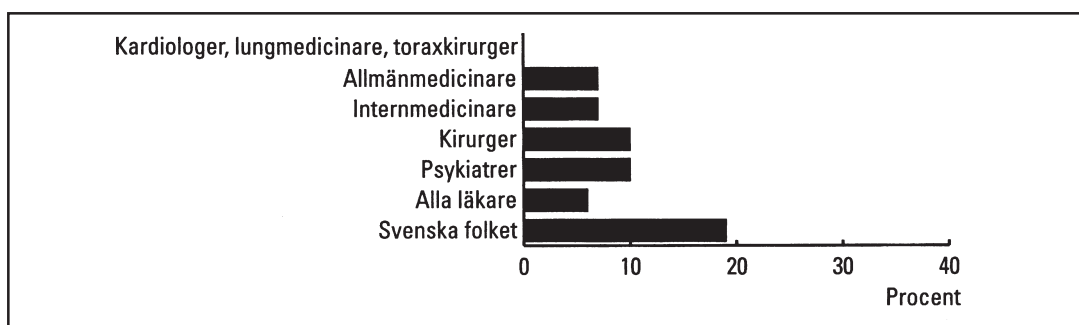
- A 15 000
- B 20 000
- C 27 000
- D 32 000
- E 37 000

FORTSÄTT PÅ NÄSTA SIDA

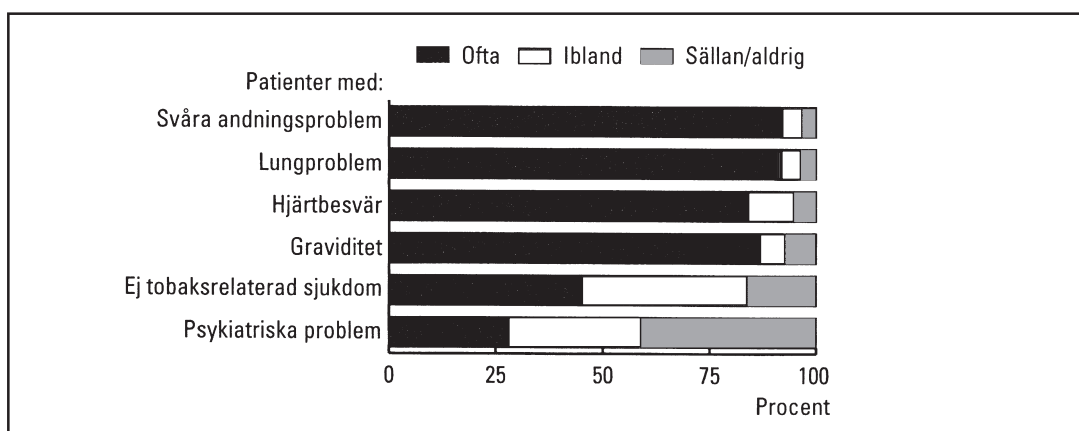
LÄKARE OCH RÖKNING

Andelen dagligrökare i Sverige samt bland läkare några år under perioden 1969–2001. Dessutom redovisas andelen läkare som aldrig har rökt och andelen läkare som slutat röka.

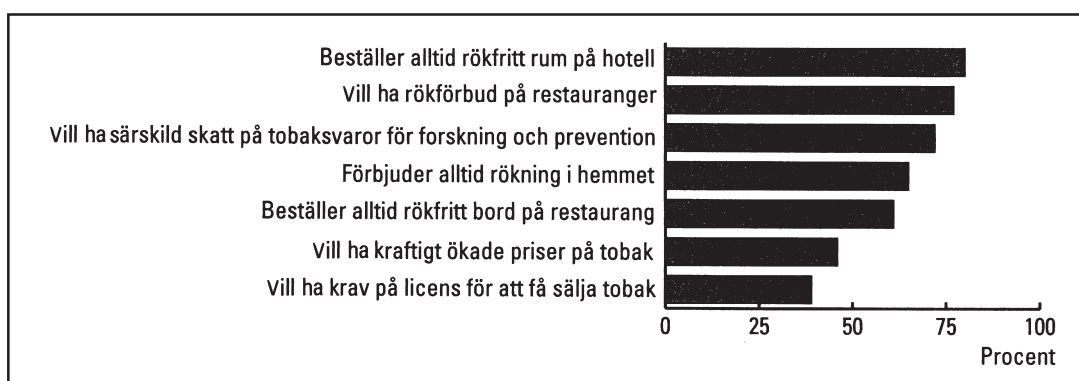
	Andel rökare (procent)						
	1969	1972	1977	1982	1989	1996	2001
Dagligrökare, Sverige	42	41	36	31	26	22	19
Dagligrökare, läkare	46	37	30	20	10	6	6
Aldrig rökt, läkare	31	36	39	–	35	38	44
Slutat röka, läkare (procent av de som rökt)	33	42	49	62	77	80	80



Andelen dagligrökare 2001 bland läkare i olika kategorier, bland alla läkare samt bland svenska folket.



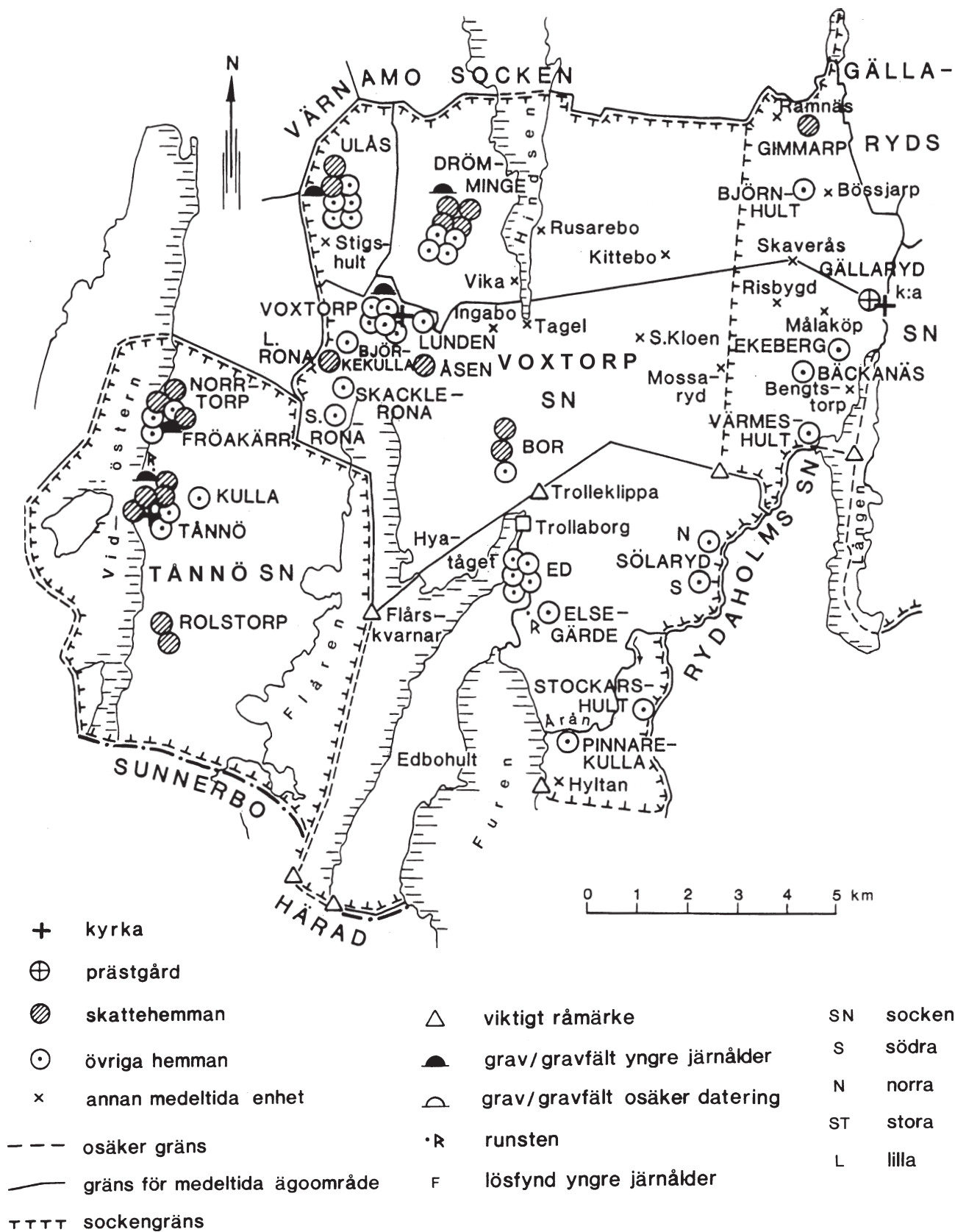
Andelen läkare som 2001 uppgav att de ofta, ibland respektive sällan/aldrig avrådde patienter i olika tillstånd från att röka.



Läkares svar 2001 på olika attitydfrågor om rökning.

17. **Hur stor andel av läkarna 2001 hade någon gång rökt?**
- A 19 procent
 - B 45 procent
 - C 56 procent
 - D 80 procent
 - E 94 procent
18. **Hur många var läkarna som ofta avrådde gravida från att röka jämfört med läkarna som sällan/aldrig gjorde det?**
- A Lika många
 - B Fyra gånger så många
 - C Sju gånger så många
 - D Nio gånger så många
 - E Tolv gånger så många

SMÅLÄNDSKA SOCKNAR



Bebyggelsebild och fornlämningar i socknarna Voxtorp och Tännö samt i delar av Gällaryds socken 1050–1550.

19. **Hur stor andel av de hemman som låg i socknarna Voxtorp och Tännö var skattehemman?**
- A 25 procent
 - B 35 procent
 - C 45 procent
 - D 55 procent
 - E 65 procent
20. **Hur stort var det medeltida ägoområde där kyrkan i Voxtorp låg?**
- A 15 km²
 - B 30 km²
 - C 45 km²
 - D 60 km²
 - E 75 km²

PROVET ÄR SLUT. OM DU HAR TID ÖVER, GÅ TILLBAKA OCH KONTROLLERA DINA SVAR.